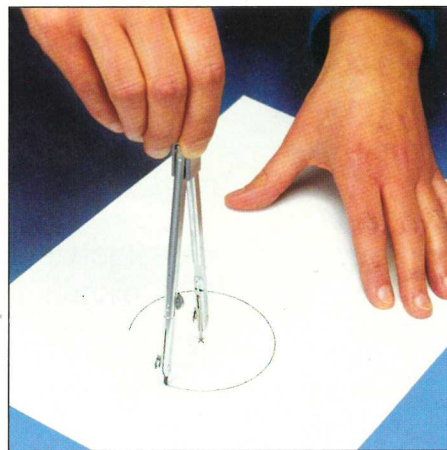

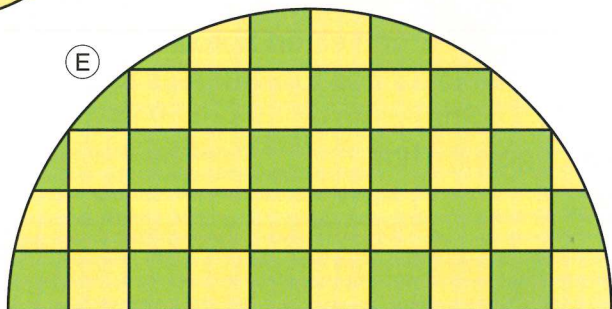
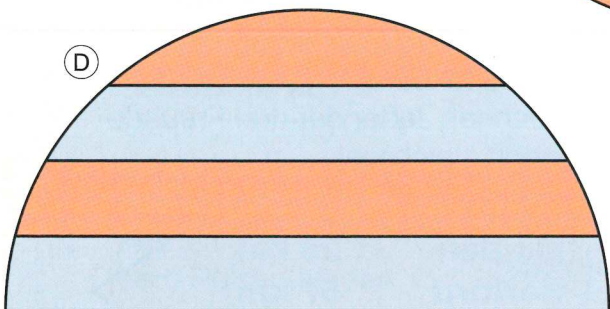
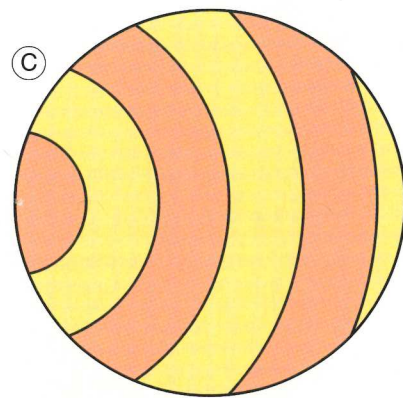
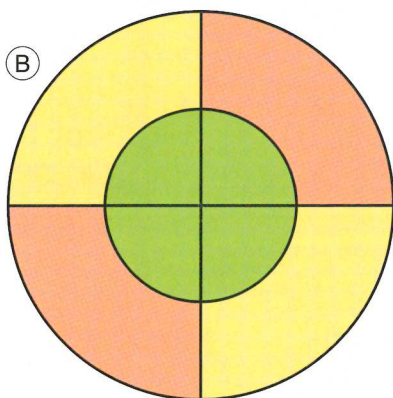
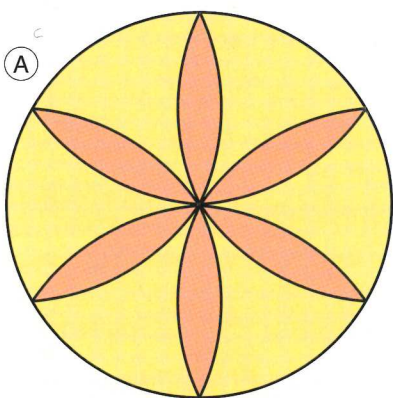


# Experimentieren mit dem Zirkel



① Zeichne Kreise und Schmuckfiguren mit Kreisen.

② Übertrage die Figuren A bis E mithilfe von Zirkel und Geodreieck möglichst genau auf Zeichenpapier.



Zeichne Kreise.

- ③ Radius: 3 cm
- ④ Radius: 4 cm
- ⑤ Radius: 6 cm
- ⑥ Radius: 3 cm 5 mm
- ⑦ Radius: 4 cm 8 mm
- ⑧ Radius: 5 cm 6 mm
- ⑨ Durchmesser: 4 cm
- ⑩ Durchmesser: 5 cm
- ⑪ Durchmesser: 7 cm

